

---

# Regn løs 3

# Regne

**Tal**

**1. klasse**

**Navn og klasse**

# Regne

Skriv datoen når du har afsluttet en opgave.


Opgave / Værksted	Dato	Godkendt
1. Tegn tal i talhuset		
2. Hvor mange penge		
3. Addition		
4. Subtraktion		
5. Hvor mange?		
6. Lav selv addition		
7. Find 10'ere venner		
8. Hvilke tal mangler?		
9. Addition		
10. Subtraktion		
11. Lav selv addition		
12. Addition med mente		
13. Tegn tal i talhuset		



Regn Løs 2: Tal løs er udarbejdet af Maiken Gagner og Malte von Sehested til brug i matematikundervisningen på Utterslev Skole. Materialet må frit kopieres og redigeres så længe Creative Commons Licensen overholdes. Dette betyder at materialet ikke må benyttes kommercielt og at redigeret materiale skal udgives på samme vilkår som dette materiale. Læs mere på [www.creativecommons.dk](http://www.creativecommons.dk) eller på [www.maltematik.dk](http://www.maltematik.dk).

# 1. Tegn tal i talhuset

Tallet skal opdeles i 1'ere, 10'ere og 100'ere og tegnes i talhuset.



100'ere	10'ere	1'ere

605

100'ere	10'ere	1'ere

87

100'ere	10'ere	1'ere

460

## Evaluering

Farv ansigterne


Hvor sjovt?



Hvor svært?




## Materialer



# 2. Hvor mange penge

Tæl hvor mange penge der er.



Empty box for answer:

1 1 10 10 1 1  
1 10 1 1 1 1

Empty box for answer:

10 1 10 1 1  
10 10 1 1

Empty box for answer:

1 1 1 1 1 1 1  
10 1 1 1 10

## Evaluering

Farv ansigterne


Hvor sjovt?



Hvor svært?




## Materialer



# 3. Addition

Regn stykker med plus.



$8 + 8 = \underline{\quad}$

$9 + 4 = \underline{\quad}$

$7 + 9 = \underline{\quad}$

$9 + 7 = \underline{\quad}$

$5 + 5 = \underline{\quad}$

$5 + 9 = \underline{\quad}$

$9 + 1 = \underline{\quad}$

$7 + 9 = \underline{\quad}$

$8 + 2 = \underline{\quad}$

$9 + 9 = \underline{\quad}$

## Evaluering

Farv ansigterne


Hvor sjovt?



Hvor svært?




## Materialer



# 4. Subtraktion

Regn stykker med minus.



$9 - 3 = \underline{\quad}$

$9 - 4 = \underline{\quad}$

$5 - 2 = \underline{\quad}$

$9 - 7 = \underline{\quad}$

$12 - 4 = \underline{\quad}$

$5 - 2 = \underline{\quad}$

$5 - 5 = \underline{\quad}$

$7 - 4 = \underline{\quad}$

$6 - 3 = \underline{\quad}$

$9 - 1 = \underline{\quad}$

## Evaluering

Farv ansigterne


Hvor sjovt?



Hvor svært?

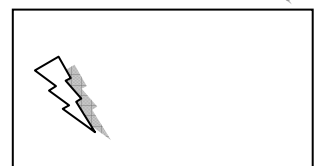
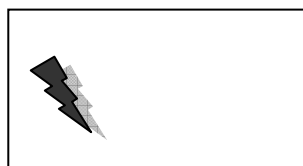




## Materialer



# 5. Hvor mange?

Tæl hvor mange af hver figur der gemmer sig i tegningen.



## Evaluering

Farv ansigterne


Hvor sjovt?



Hvor svært?




## Materialer



# 6. Lav selv addition

Brug terningen til at lave opgaver med plus og regn resultatet ud.



$\square + \square = \square$	$\square + \square = \square$
$\square + \square = \square$	$\square + \square = \square$
$\square + \square = \square$	$\square + \square = \square$
$\square + \square = \square$	$\square + \square = \square$
$\square + \square = \square$	$\square + \square = \square$

## Evaluering

Farv ansigterne

Hvor sjovt?



Hvor svært?



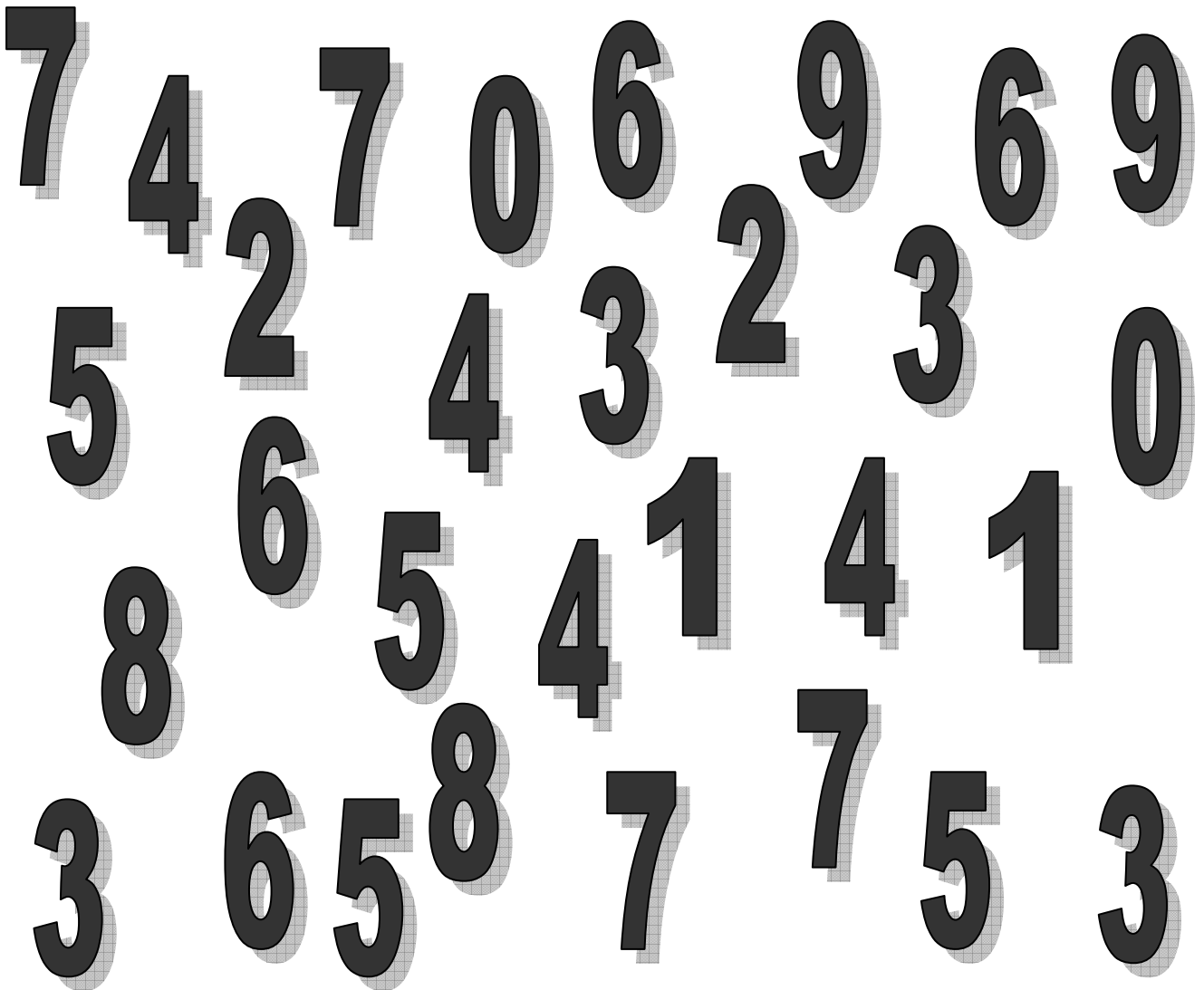

## Materialer





# 7. Find 10'er venner

Find talpar der giver 10 når de adderes.



## Evaluering

Farv ansigterne


Hvor sjovt?



Hvor svært?




## Materialer



# 8. Hvilke tal mangler?

Indsæt de manglende tal.



18	19			
0	2		6	
6	5			2
4				0

## Evaluering

Farv ansigterne


Hvor sjovt?



Hvor svært?




## Materialer



# 9. Addition

Regn stykker med plus.



$8 + 8 = \underline{\quad}$

$9 + 4 = \underline{\quad}$

$7 + 9 = \underline{\quad}$

$9 + 7 = \underline{\quad}$

$5 + 5 = \underline{\quad}$

$5 + 9 = \underline{\quad}$

$9 + 1 = \underline{\quad}$

$7 + 9 = \underline{\quad}$

$8 + 2 = \underline{\quad}$

$9 + 9 = \underline{\quad}$

## Evaluering

Farv ansigterne


Hvor sjovt?



Hvor svært?




## Materialer



# 10. Subtraktion

Regn stykker med minus.



$9 - 3 = \underline{\quad}$

$9 - 4 = \underline{\quad}$

$5 - 2 = \underline{\quad}$

$9 - 7 = \underline{\quad}$

$12 - 4 = \underline{\quad}$

$5 - 2 = \underline{\quad}$

$5 - 5 = \underline{\quad}$

$7 - 4 = \underline{\quad}$

$6 - 3 = \underline{\quad}$

$9 - 1 = \underline{\quad}$

## Evaluering

Farv ansigterne


Hvor sjovt?



Hvor svært?




## Materialer



# 11. Lav selv addition

Brug terningen til at lave opgaver med plus og regn resultatet ud.



$\square + \square = \square$	$\square + \square = \square$
$\square + \square = \square$	$\square + \square = \square$
$\square + \square = \square$	$\square + \square = \square$
$\square + \square = \square$	$\square + \square = \square$
$\square + \square = \square$	$\square + \square = \square$

## Evaluering

Farv ansigterne

Hvor sjovt?



Hvor svært?




## Materialer



# 12. Addition med mente

Regn stykker med plus. Brug skemaet til at huske menten.



	10'ere	1'ere
Mente		
	4	5
+	2	7
=		

	10'ere	1'ere
Mente		
	5	6
+	2	4
=		

	10'ere	1'ere
Mente		
	2	7
+		8
=		

	10'ere	1'ere
Mente		
	4	7
+	4	3
=		

## Evaluering

Farv ansigterne


Hvor sjovt?



Hvor svært?





## Materialer




# 13. Tegn tal i talhuset


Tallet skal opdeles i 1'ere, 10'ere og 100'ere og tegnes i talhuset



505



731



936

## Evaluering

Farv ansigterne


Hvor sjovt?



Hvor svært?



## Materialer



---

# Farv tegningen

