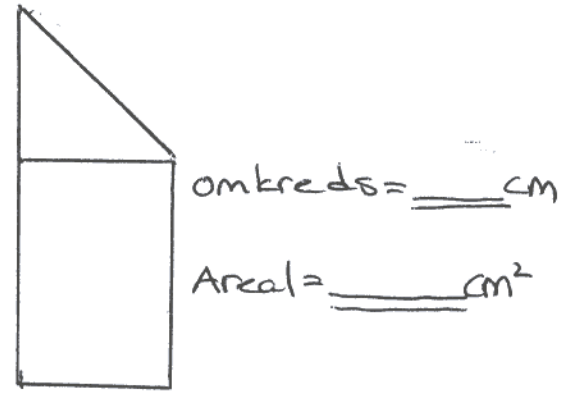
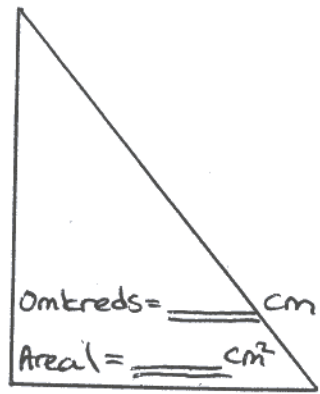
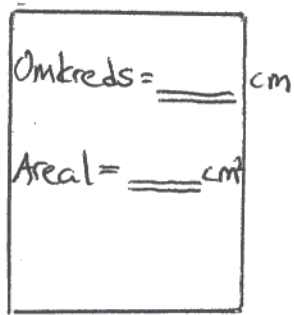


Omkreds og Areal



Gangefirkant

•	3	6	8	11
4				
8				
10				
11				
13				

Grubleopgave

Søren hjælper sin mor med at gøre rent derhjemme. De har en aftale om at, når han hjælper i 2 timer, får Søren 400 kr.

Første gang Søren hjælper sin mor får han 100 kr. Anden gang Søren hjælper sin mor får han 50 kr og tredje gang får han 300 kr.

Hvor mange timer har Søren hjulpet sin mor?

Brøker

$\frac{1}{2} + \frac{1}{4} = \underline{\quad}$

$\frac{1}{3} + \frac{1}{4} = \underline{\quad}$

$\frac{3}{4} + \frac{3}{6} = \underline{\quad}$

$\frac{4}{8} + \frac{2}{4} = \underline{\quad}$

$\frac{1}{7} + \frac{2}{8} = \underline{\quad}$

$\frac{3}{8} + \frac{2}{6} = \underline{\quad}$

Målestoksforhold

Forklar hvad 1:50 betyder

Skriv Logbog

Hvad har du kørt løbet af ugen:
