

Ugeopgave uge 45

Afleveres fredag den 11. november 2005

Navn: _____

Tabeløvelse

$5 \cdot 9 = \underline{\quad}$	$8 \cdot 8 = \underline{\quad}$
$7 \cdot 6 = \underline{\quad}$	$7 \cdot 7 = \underline{\quad}$
$8 \cdot 6 = \underline{\quad}$	$9 \cdot 8 = \underline{\quad}$
$9 \cdot 8 = \underline{\quad}$	$6 \cdot 7 = \underline{\quad}$
$8 \cdot 7 = \underline{\quad}$	$7 \cdot 9 = \underline{\quad}$

Lav din egen Sudoku

Udfyld alle felter i din egen Sudoku.

Grubleopgave

Morten har tre gange så mange gæs som han har ænder men kun halvt så mange kyllinger. Hvor mange af hver slags dyr har Morten hvis der er 90 fjerkræ i alt?

Tegn og forklar på bagsiden.

kyllinger

.....

ænder

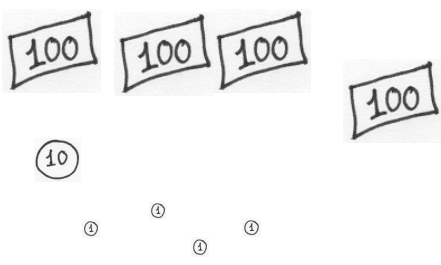
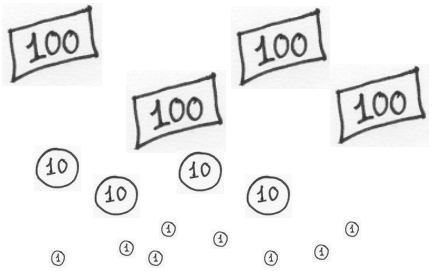
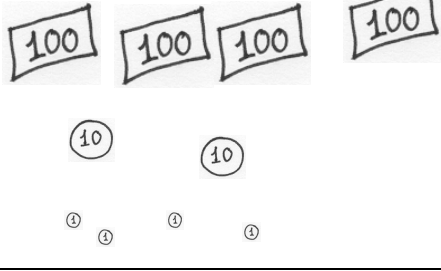
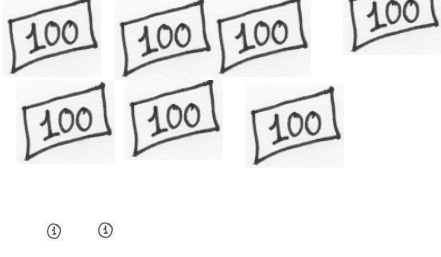
.....

gæs

.....

Store divisionsstykker?

Regn eller del-og-veksl!

<p>414 kroner delt med 6.</p>  <p>$6 \overline{) 414}$</p>	
<p>448 kroner delt med 7.</p>  <p>$7 \overline{) 448}$</p>	
<p>424 kroner delt med 8.</p>  <p>$8 \overline{) 424}$</p>	
<p>702 kroner delt med 9.</p>  <p>$9 \overline{) 702}$</p>	

Tegn på bagsiden

Forestil dig at du skulle lave din egen animation. Tegn mindst tre billeder fra animationen - et fra starten, et fra midten og et fra slutningen af animationen.

Skriv logbog

Noget du har lavet eller lært i løbet af ugen:

.....

.....

.....

Det vil jeg gerne lære

Noget du vil lære eller blive bedre til:

.....

.....

.....