

Ugeopgave uge 43

Afleveres fredag den 28. oktober 2005

Regn på lommeregner

$$4.781 + 5.174 = \underline{\hspace{2cm}}$$

$$7.246 - 1.874 = \underline{\hspace{2cm}}$$

$$477 \cdot 56 = \underline{\hspace{2cm}}$$

$$184.896 : 321 = \underline{\hspace{2cm}}$$

$$195.865 + 85.027 = \underline{\hspace{2cm}}$$

$$582.834 - 97.643 = \underline{\hspace{2cm}}$$

Grubleopgave

I efterårsferien spiste Kim lige mange kartofler hver dag. Hvor mange kartofler spiste han per dag, når han i alt spiste 45 kartofler? Hvad hvis Kim kun brugte hverdagene i efterårsferien på at spise alle kartoflerne?

Tegn og forklar på bagsiden.

Hele ferien:

Kun hverdagene:

6		3		2	
	2		6		5
3	6				2
		2	1		
			2		
1		6			

Medium Sudoku

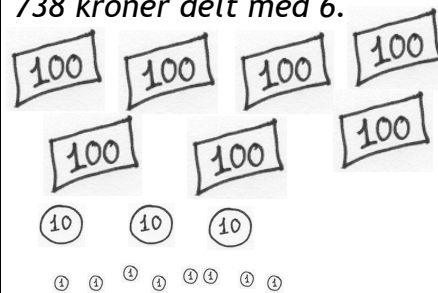
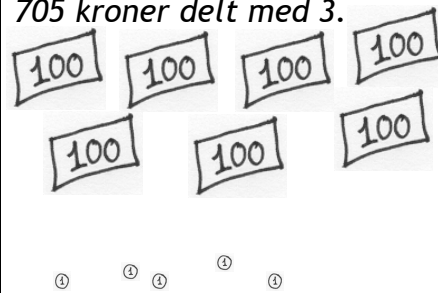
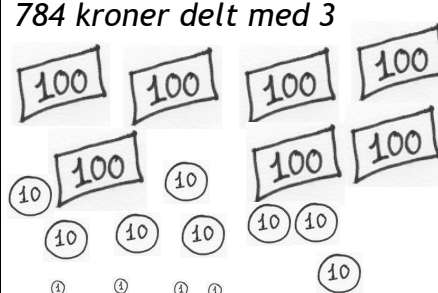
I skal placere tallene 1-6 i rækker og kolonner og i hver af de små firkanter så hver af tallene kun optræder én gang.

Husk at kontrollere jeres resultat inden i afleverer.

Navn: _____

Store divisionsstykker?

Regn eller del-og-veksl!

<p>738 kroner delt med 6.</p>  <p>6 $\overline{)738}$</p>
<p>705 kroner delt med 3.</p>  <p>3 $\overline{)705}$</p>
<p>784 kroner delt med 3</p>  <p>3 $\overline{)784}$</p>

Tegn på bagsiden

Tegn et rektangel på 15 cm gange 10 cm.

Del det op i seks lige store kvadrater.

Tegn et lille billede fra din efterårsferie i hvert kvadrat.

Skriv logbog

Noget du har lavet eller lært i løbet af ugen:

Det vil jeg gerne lære

Noget du vil lære eller blive bedre til: