

Ugeopgave uge 5

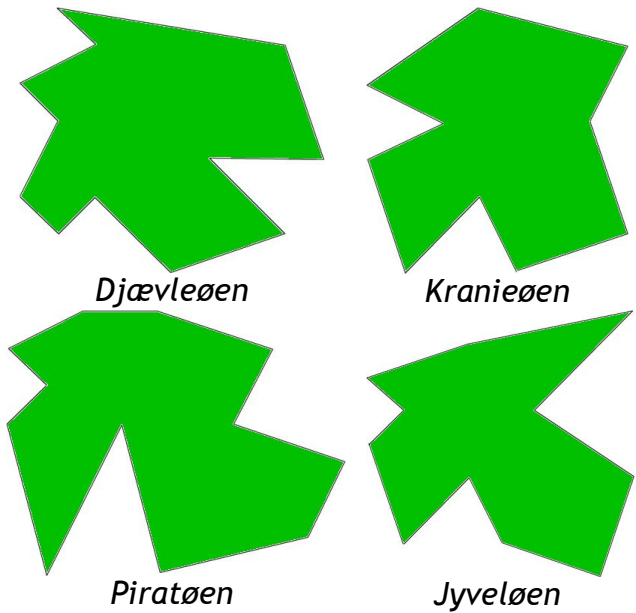
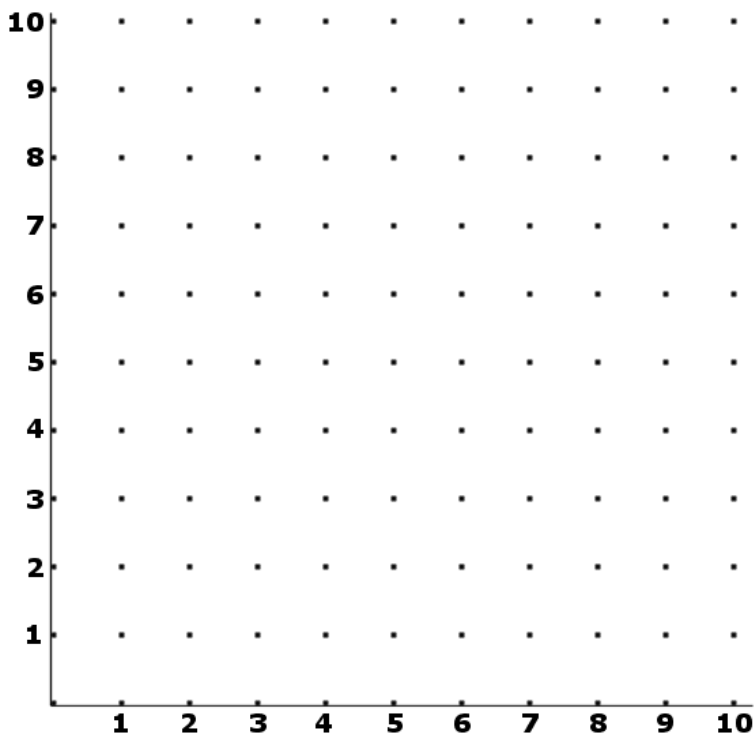
Aflleveres fredag den 4. februar 2005

Navn: _____

Koordinatpiraten og den hemmelige skat

Koordinatpiraten har gemt sin hemmelige skat på en skatteø, men hvilken ø har han valgt? Tegn øens silhuet ved at følge koordinaterne nedenfor og kig på oversigten over øer.

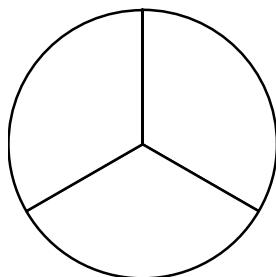
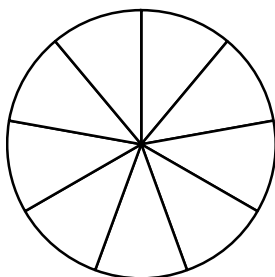
$(1,7) \rightarrow (4,9) \rightarrow (8,8) \rightarrow (7,6) \rightarrow (8,3) \rightarrow (5,2) \rightarrow (4,4) \rightarrow (2,2) \rightarrow (1,5) \rightarrow (3,6) \rightarrow (1,7)$



Hvilken ø er skatteø? _____

Grubleopgave

Koordinatpiraten deler skatten med sine sørøvere. Hver sørøver får to niendedele af skatten. Koordinatpiraten får en tredjedel af skatten. Skriv, tegn og regn så man kan se hvor mange sørøvere Koordinatpiraten har i alt.



.....
.....
.....
.....

Tegn på bagsiden

Tegn koordinatpiraten på bagsiden. Du kan eventuelt også tegne hans skib eller hans skat.



Skriv logbog

Fortæl om noget du har lavet med matematik i løbet af ugen:

.....
.....
.....