



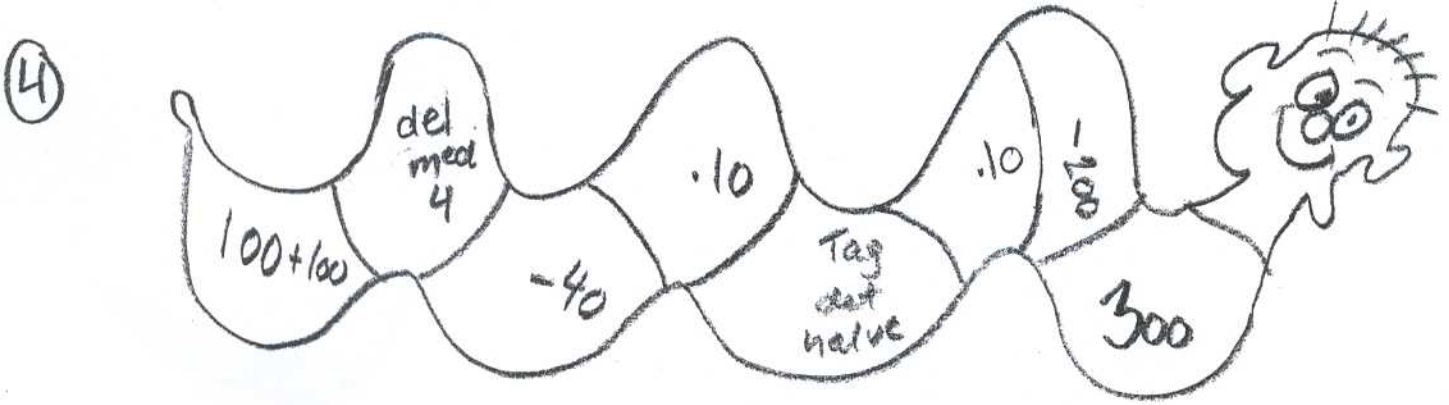
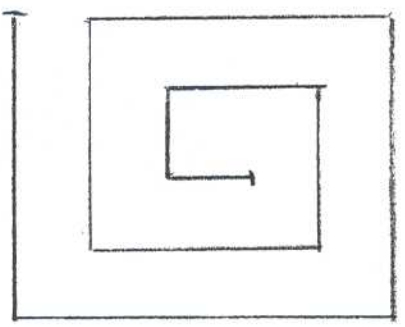
Ugeoppgave til fredag d. 29/10

① Søren har fået sig en blokfløjte. I skolen lærer han 3 toner G-A og H. 
 Han skal selv finde på en lille melodi på 3 toner hvor han bruger alle 3 toner som han har lært. Hvor mange melodier kan han lave?
 ex: G-H-A

②

$\begin{array}{r} 35925 \\ + 15302 \\ + 24312 \\ \hline \hline \end{array}$	$\begin{array}{r} 75920 \\ + 7251 \\ + 305 \\ \hline \hline \end{array}$	$\begin{array}{r} 8582 \\ - 5483 \\ \hline \hline \end{array}$	$\begin{array}{r} 10000 \\ - 305 \\ \hline \hline \end{array}$
---	--	--	--

③ mål streger!

⑤

$4 \cdot 25 =$ _____

$3 \cdot 30 =$ _____

⑥ Bagpå skal du tegne dit yndlings TV-program.