

Ugeopgave uge 35

Afleveres fredag den 27. august 2004

Navn: _____

Grubleopgave

Hvis Danmark får lige så mange guldmedaljer som sølv- og bronzemedaljer tilsammen og kun halvt så mange sølvmedaljer som bronzemedaljer, hvor mange medaljer af hver slags får Danmark så når der i alt bliver vundet 12 medaljer?



Guldmedaljer:

Sølvmedaljer:

Bronzemedaljer:

Regn med plus og minus

5232

- 3326

9999

+ 1001

5933

- 4944


































3243242

+ 463788

Medaljevøst

På skemaet kan du se hvor mange medaljer forskellige lande har vundet ved OL indtil videre (torsdag den 19. august om aftenen).

Lav et pindediagram der viser antallet af guld, sølv og bronze medaljer for hvert land. Lav også en pind for hvert land, der viser hvor mange medaljer landet har vundet i alt.

	Bronze	Sølv	Guld
 Australien			
 Danmark			
 Italien			
 Japan			
 Kina			
 Sverige			
 Sydafrika			
 Tyrkiet			
 Tyskland			
 USA			

Skriv logbog

Fortæl om noget du har lavet med matematik i løbet af ugen:

.....

.....