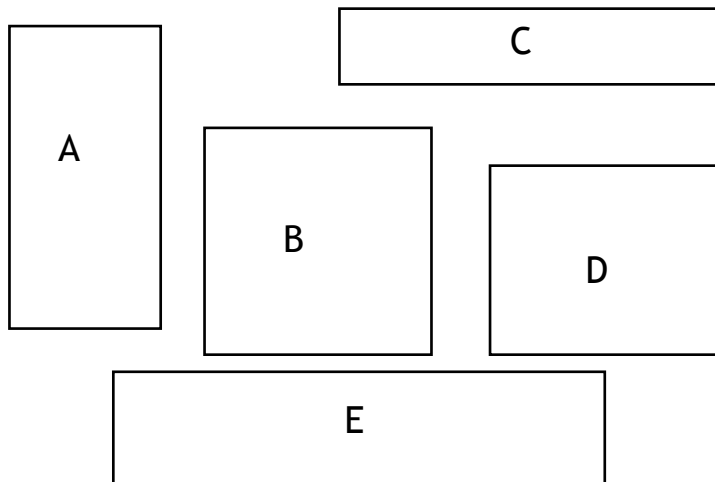


Ugeopgave uge 10

Navn: _____

Mål firkanter

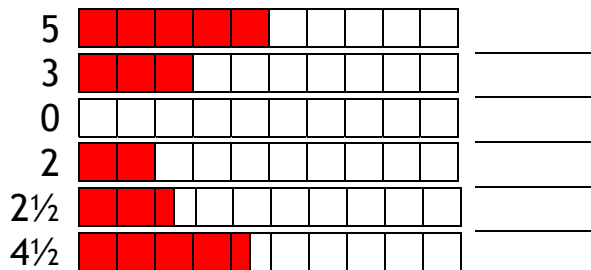
Mål firkanterne og skriv længde og brede. Skriv også hvor mange centicubes der kan være i hver af firkanterne.



	Længde	Brede	Antal centicubes
A			
B			
C			
D			
E			

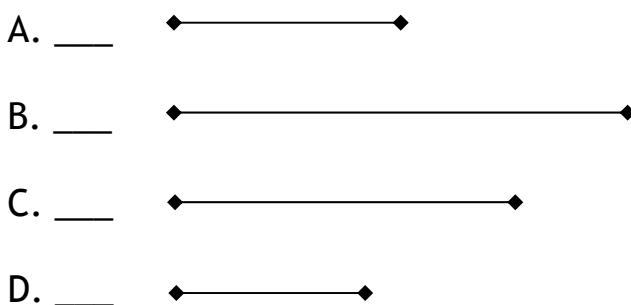
Det dobbelte

Se på tal og tegning. Hvis man nu har dobbelt så meget hvor meget har man så? Farv det på talbjælken og skriv tallet.



Størrelsesforhold

Mål og skriv længden når størrelsesforholdet er 1:2.



Regn stykkerne

$\begin{array}{r} 12 \\ + 7 \\ \hline \end{array}$	$\begin{array}{r} 34 \\ + 21 \\ \hline \end{array}$	$\begin{array}{r} 64 \\ + 36 \\ \hline \end{array}$	$\begin{array}{r} 121 \\ + 457 \\ \hline \end{array}$	$\begin{array}{r} 640 \\ + 360 \\ \hline \end{array}$	$\begin{array}{r} 65 \\ + 34 \\ \hline \end{array}$	$\begin{array}{r} 66 \\ + 35 \\ \hline \end{array}$	$\begin{array}{r} 231 \\ + 369 \\ \hline \end{array}$
$\begin{array}{r} 76 \\ - 34 \\ \hline \end{array}$	$\begin{array}{r} 56 \\ - 23 \\ \hline \end{array}$	$\begin{array}{r} 56 \\ - 28 \\ \hline \end{array}$	$\begin{array}{r} 87 \\ - 78 \\ \hline \end{array}$	$\begin{array}{r} 54 \\ - 45 \\ \hline \end{array}$	$\begin{array}{r} 239 \\ - 147 \\ \hline \end{array}$	$\begin{array}{r} 654 \\ - 345 \\ \hline \end{array}$	$\begin{array}{r} 323 \\ - 175 \\ \hline \end{array}$

Skriv logbog

Har du lavet noget der handler om matematik i denne uge, så fortæl om det her:
