
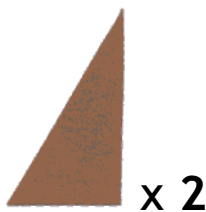
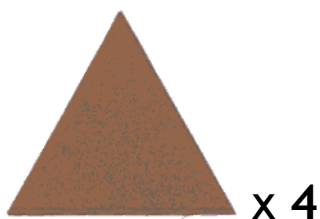


**Lav figurer**

Tegn de 8 brikker over på et stykke papir og klip dem ud.



Brug brikkerne du lige har klippet ud til at danne følgende figurer. Tegn på figuren hvordan du bruger brikkerne.

<p><b>Figur 1: Bombe</b></p>	<p><b>Figur 2: Ufo</b></p>
------------------------------	----------------------------

**Regn stykkerne**

$\begin{array}{r} 34 \\ + 25 \\ \hline \hline \end{array}$	$\begin{array}{r} 76 \\ + 124 \\ \hline \hline \end{array}$	$\begin{array}{r} 567 \\ + 133 \\ \hline \hline \end{array}$	$\begin{array}{r} 7738 \\ + 2921 \\ \hline \hline \end{array}$	$\begin{array}{r} 25 \\ - 13 \\ \hline \hline \end{array}$	$\begin{array}{r} 67 \\ - 19 \\ \hline \hline \end{array}$	$\begin{array}{r} 472 \\ - 373 \\ \hline \hline \end{array}$	$\begin{array}{r} 143 \\ - 44 \\ \hline \hline \end{array}$
--	---	--	--	--	--	--	---

**Skriv logbog**

Har du lavet noget der handler om matematik i denne uge, så fortæl om det her:

.....

.....