

Ugeopgave uge 51

Navn: _____

Spil kvadratspil

Spil kvadratspil (se bagsiden) og noter hvor mange spil de forskellige spillere vandt. Da du er den ene spille i alle spil kan du højst have 3 modstandere, men du må godt spille flere spil mod den samme og dermed udfylde færre felter med navne.

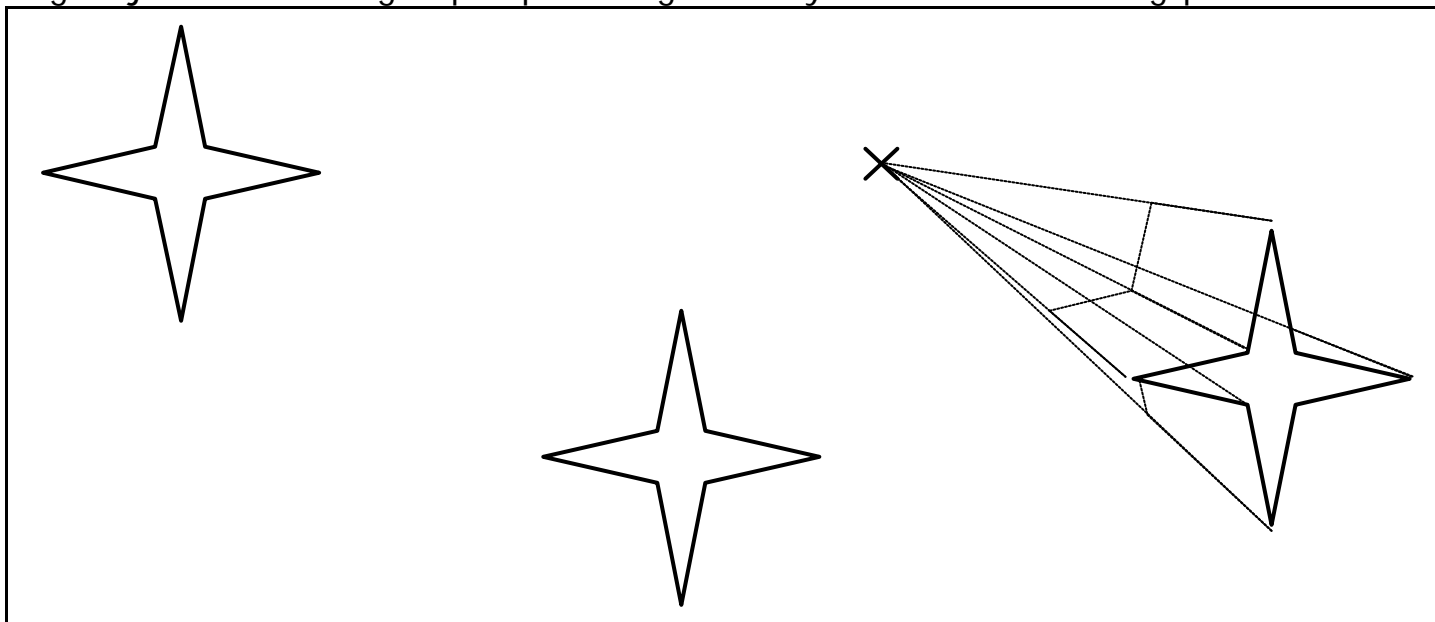
Spillernavn				
Antal sejre				

Regn stykkerne

91	82	73	67	76	438	942	8436
+ 7	+ 17	+ 26	+ 14	+ 121	+ 351	+ 58	+ 612
=====	=====	=====	=====	=====	=====	=====	=====
85	64	75	76	84	776	739	8365
- 43	- 33	- 45	- 49	- 16	- 543	- 714	- 6143
=====	=====	=====	=====	=====	=====	=====	=====

Stjernerne

Tegn stjernerne færdige i perspektiv og med krydset som forsvindingspunkt.




Skriv logbog

Har du lavet noget der handler om matematik i denne uge, så fortæl om det her:

Spil kvadratspil

Spil kvadratspil med dine forældre eller søskende. Skriv navn og farve ud for hvert spiller og marker skiftevis med farver til en af jer har fået lavet et kvadrat.



Spiller 1



navn

farve

Spiller 2

navn

farve



Spiller 1



navn

farve

Spiller 2

navn

farve



Spiller 1

navn

farve

Spiller 2

navn

farve

