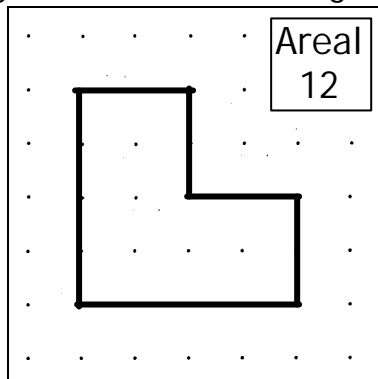
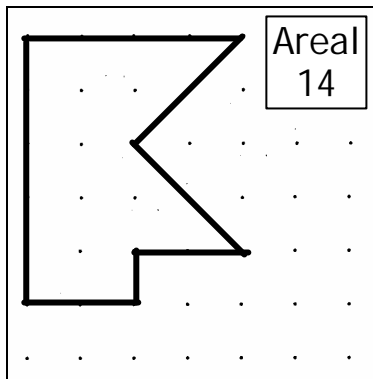


Det halve

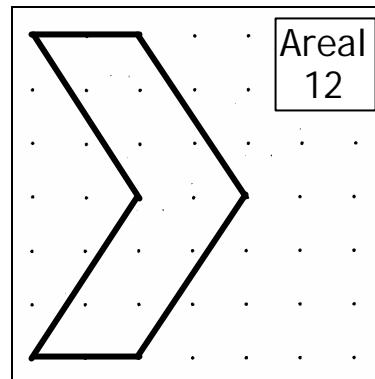
Figureernes areal er angivet. Hvor stort er det halve af arealet?



Det halve: _____



Det halve: _____



Det halve: _____

Regn stykkerne

| | | | | | | | |
|--|--|--|--|---|--|--|--|
| $\begin{array}{r} 42 \\ + 21 \\ \hline \hline \end{array}$ | $\begin{array}{r} 62 \\ + 35 \\ \hline \hline \end{array}$ | $\begin{array}{r} 19 \\ + 56 \\ \hline \hline \end{array}$ | $\begin{array}{r} 67 \\ + 29 \\ \hline \hline \end{array}$ | $\begin{array}{r} 78 \\ + 101 \\ \hline \hline \end{array}$ | $\begin{array}{r} 324 \\ + 273 \\ \hline \hline \end{array}$ | $\begin{array}{r} 533 \\ + 464 \\ \hline \hline \end{array}$ | $\begin{array}{r} 5367 \\ + 2837 \\ \hline \hline \end{array}$ |
| $\begin{array}{r} 47 \\ - 34 \\ \hline \hline \end{array}$ | $\begin{array}{r} 92 \\ - 71 \\ \hline \hline \end{array}$ | $\begin{array}{r} 57 \\ - 35 \\ \hline \hline \end{array}$ | $\begin{array}{r} 52 \\ - 25 \\ \hline \hline \end{array}$ | $\begin{array}{r} 67 \\ - 19 \\ \hline \hline \end{array}$ | $\begin{array}{r} 219 \\ - 107 \\ \hline \hline \end{array}$ | $\begin{array}{r} 342 \\ - 143 \\ \hline \hline \end{array}$ | $\begin{array}{r} 8347 \\ - 6225 \\ \hline \hline \end{array}$ |

Talrækker

Kig på talrækkerne og se om du kan finde ud af de næste tal. Dine forældre må gerne hjælpe dig hvis det er for svært, men prøv selv først!

- A: 3 - 6 - 9 - - - - - -
- B: 0 - 5 - 10 - 15 - - - - - -
- C: 1 - 2 - 4 - 7 - 11 - - - - -
- D: 2 - 4 - 6 - 8 - - - - - -
- E: 0 - 2 - 0 - 2 - 0 - 2 - - - -

Skriv logbog

Har du lavet noget der handler om matematik i denne uge, så fortæl om det her:

.....

.....