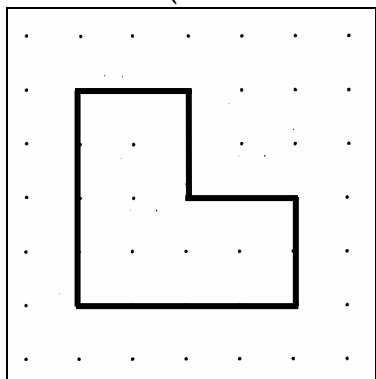
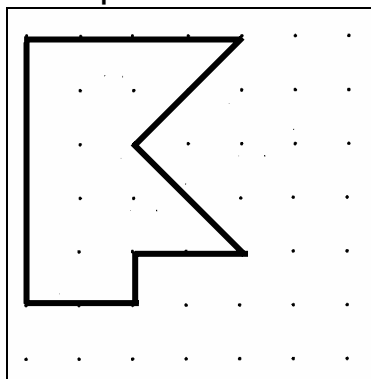


Hvor stor er sømbrætsfigurene?

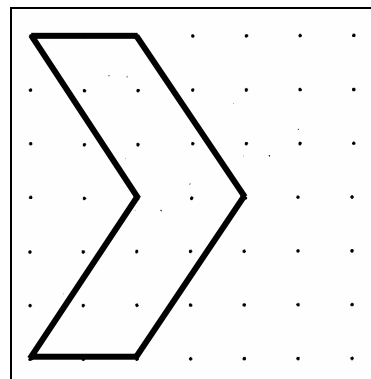
Tæl arealet (antallet af firkanter udspændt af fire søm)



Størrelse: _____



Størrelse: _____



Størrelse: _____

Regn stykkerne

$\begin{array}{r} 45 \\ + 54 \\ \hline \end{array}$	$\begin{array}{r} 78 \\ + 12 \\ \hline \end{array}$	$\begin{array}{r} 93 \\ + 52 \\ \hline \end{array}$	$\begin{array}{r} 10000 \\ + 2345 \\ \hline \end{array}$	$\begin{array}{r} 639 \\ + 163 \\ \hline \end{array}$	$\begin{array}{r} 374 \\ + 582 \\ \hline \end{array}$	$\begin{array}{r} 492 \\ + 308 \\ \hline \end{array}$	$\begin{array}{r} 342 \\ + 232 \\ \hline \end{array}$
$\begin{array}{r} 95 \\ - 84 \\ \hline \end{array}$	$\begin{array}{r} 100 \\ - 67 \\ \hline \end{array}$	$\begin{array}{r} 322 \\ - 23 \\ \hline \end{array}$	$\begin{array}{r} 943 \\ - 634 \\ \hline \end{array}$	$\begin{array}{r} 169 \\ - 38 \\ \hline \end{array}$	$\begin{array}{r} 732 \\ - 520 \\ \hline \end{array}$	$\begin{array}{r} 63 \\ - 29 \\ \hline \end{array}$	$\begin{array}{r} 734 \\ - 627 \\ \hline \end{array}$

Talrækker

Kig på talrækkerne og se om du kan finde ud af de næste tal. Dine forældre må gerne hjælpe dig hvis det er for svært, men prøv selv først!

- A: 1 - 2 - 3 - - - - - -
- B: 2 - 4 - 6 - 8 - - - - - -
- C: 3 - 6 - 9 - 12 - 15 - - - - -
- D: 0 - 1 - 1 - 2 - 3 - 5 - - - - -
- E: 1 - 2 - 4 - 8 - 16 - - - - -

Skriv logbog

Har du lavet noget der handler om matematik i denne uge, så fortæl om det her:

.....

.....